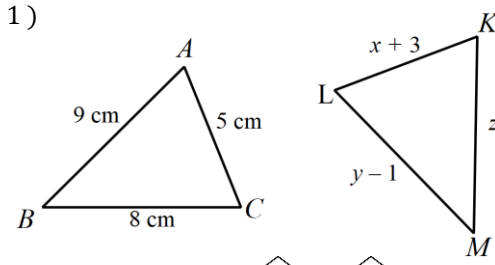


# EŞLİK VE BENZERLİK BOYAMA ETKİNLİĞİ

4	8	10	1	1	1	1	8	8	8	8	10	10	10	10	11	11	11	11	10	10
4	8	10	13	13	13	13	4	4	4	4	12	12	12	12	7	7	7	7	10	10
4	8	10	3	14	14	14	9	9	9	9	3	3	3	3	5	5	5	5	8	13
4	8	15	3	15	15	15	6	6	6	6	2	2	2	2	14	14	14	14	8	13
13	7	15	3	8	8	5	5	5	8	8	8	3	3	3	13	13	13	7	7	7
13	7	15	8	8	8	3	3	3	10	10	10	14	14	14	12	12	12	1	1	1
13	7	10	10	10	10	5	5	5	7	7	7	15	15	15	7	7	7	11	11	11
13	13	13	12	12	12	6	6	6	12	12	12	9	9	9	11	11	11	4	4	4
10	10	10	1	1	1	2	2	2	13	13	13	2	2	2	8	8	8	10	10	10
8	8	8	1	1	1	9	9	9	4	4	4	6	6	6	13	13	13	1	1	1
7	7	7	4	4	4	15	15	15	10	10	10	5	5	5	7	7	7	11	11	11
1	1	1	1	1	14	14	14	14	7	7	7	3	3	3	4	4	4	3	8	11
11	11	11	11	11	3	3	3	3	1	1	1	5	5	5	4	4	15	3	8	11
7	7	7	7	2	2	2	2	4	4	4	4	9	9	9	9	9	15	3	8	11
12	12	12	12	15	15	15	15	8	8	8	8	14	14	14	14	14	15	4	10	7
4	4	4	4	4	2	2	10	10	10	10	10	10	3	3	3	3	1	4	10	7
10	10	10	10	10	7	7	7	7	11	11	11	11	12	12	12	12	1	4	10	7
8	8	8	8	8	1	1	1	1	13	13	13	13	10	10	10	10	1	4	10	7

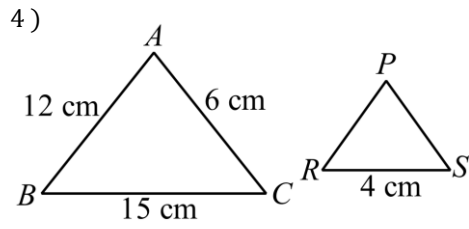




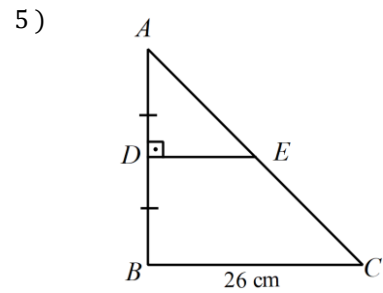
Yukarıdaki şekilde  $\triangle ABC \cong \triangle KLM$  olduğuna göre  $x+y+z$  kaç cm'dir?

2)  $\triangle ABC$  ile  $\triangle KLM$  eş üçgenlerdir.  
 $s(\hat{A})=63^\circ$  ve  $s(\hat{L})=74^\circ$  ise  $s(\hat{C})$  kaçtır?

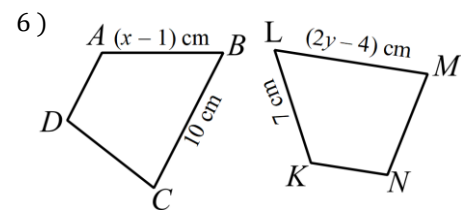
3)  $\triangle ABC$  ile  $\triangle KLM$  eş üçgenlerdir.  
 $\triangle ABC$  üçgeninin çevresi 30 cm,  
 $|KL|=12$  cm, ve  $|ML|=7$  cm olduğuna göre  $|KM|$  kaç cm'dir?



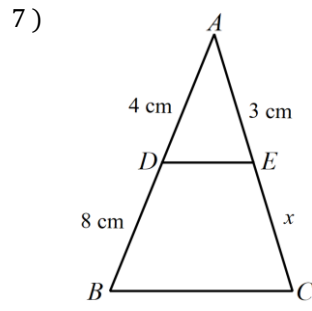
Yukarıdaki şekilde  $\triangle ABC \sim \triangle RSP$ 'dir.  
 $|PR| + |PS|$  kaç cm'dir?



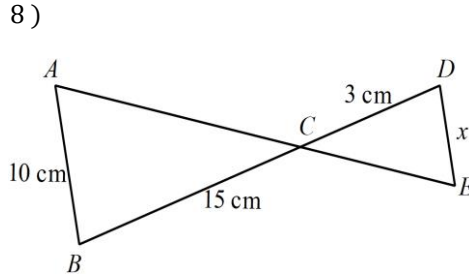
Yukarıdaki şekilde  $\triangle ABC \sim \triangle ADE$ 'dir.  
 $|DE|$  kaç cm'dir?



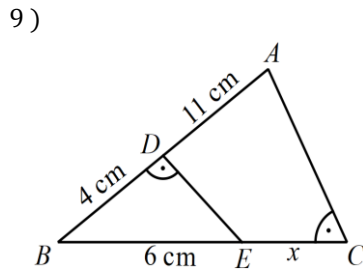
$ABCD \cong KLMN$  olduğuna göre  $x+y$  kaçtır?



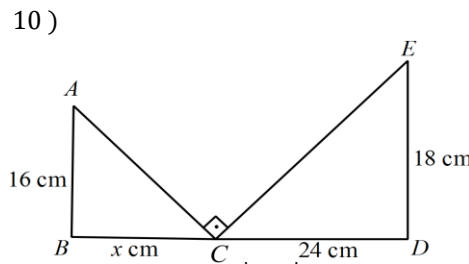
$[BC] \parallel [DE]$  olduğuna göre  $x$  kaçtır?



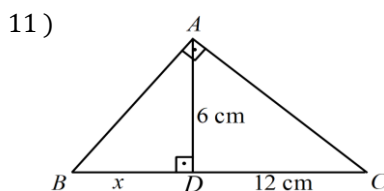
$[AB] \parallel [DE]$  olduğuna göre  $x$  kaçtır?



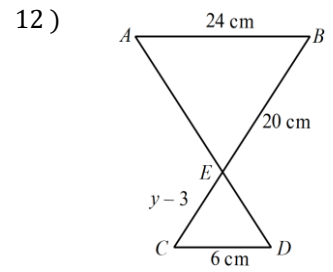
Yukarıdaki şekilde  $|BD|=4$  cm,  
 $|BE|=6$  cm ve  $|AD|=11$  cm ise  $x$  kaç cm'dir?



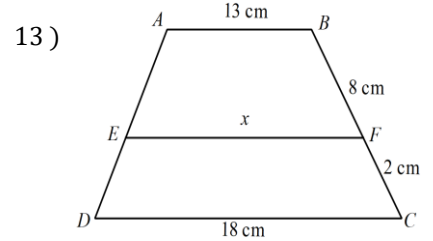
Yukarıdaki şekilde  $|AB|=16$  cm,  
 $|CD|=24$  cm ve  $|DE|=18$  cm ise  $x$  kaç cm'dir?



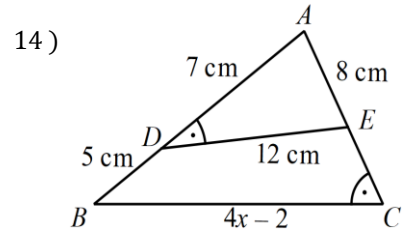
Yukarıdaki şekilde  $[AB] \perp [AC]$   
 $|AD|=6$  cm ve  $|CD|=12$  cm ise  $x$  kaç cm'dir?



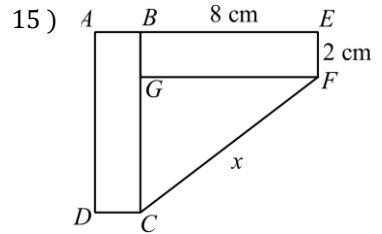
$[AB] \parallel [DE]$  olduğuna göre  $y$  kaçtır?



$[AB] \parallel [DC] \parallel [EF]$  ise  $x$  kaçtır?



Yukarıdaki şekilde  $|AD|=7$  cm,  
 $|DE|=12$  cm ve  $|BD|=5$  cm ise  $x$  kaç cm'dir?



$ABCD \cong BEFG$  olduğuna göre  $|FC|$  kaçtır?

SİYAH		BOYANMAYACAK	
Soru No	Cevap	Soru No	Cevap
	11		3
	5		7
	10		12
	4		2
	43		17
	15		6
	13		8
			20

Soru cevabı ile soru numarasını eşleştirdikten sonra ön sayfada verilen tablodaki soru numaralarını istenilen renge boyayınız.

Ali ZENGİN



